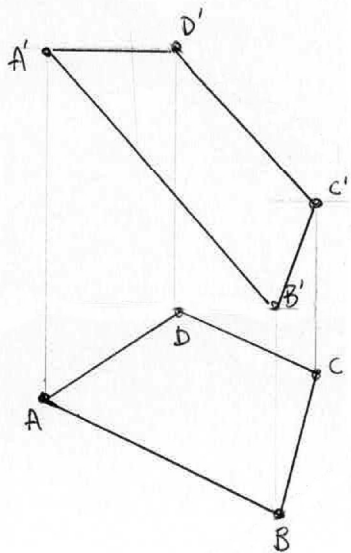
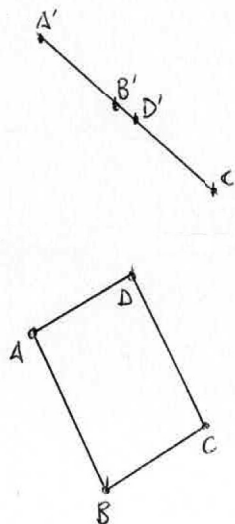


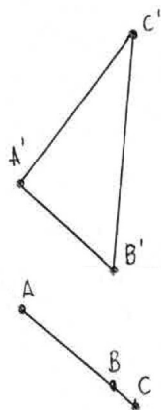
ENCUENTRA LA VERDADERA MAGNITUD
DEL CUADRILÁTERO **ABCD**



ENCUENTRA LA VERDADERA MAGNITUD
DEL CUADRILÁTERO **ABCD**



ENCUENTRA LA VERDADERA MAGNITUD
DEL TRIÁNGULO **ABC**



DADA LA RECTA **R** Y EL PUNTO **A**, DIBUJA EL CUADRADO
ABCD SABIENDO QUE SOBRE **R** SE ENCUENTRA UN LADO

