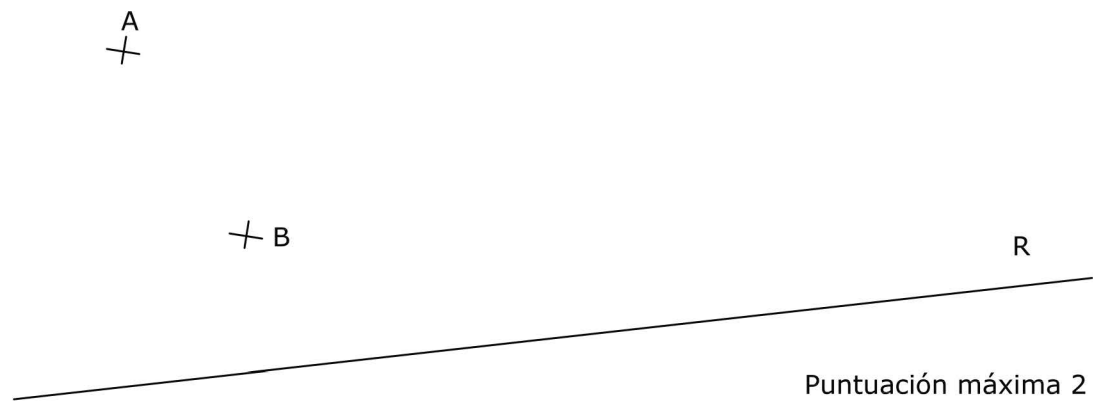
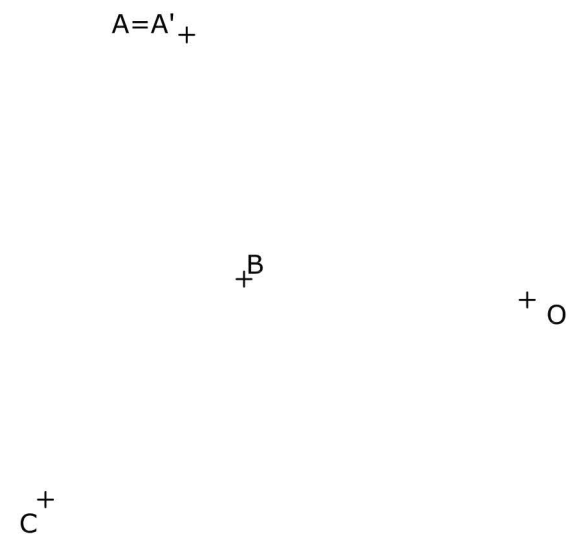


BLOQUE 1. EJERCICIO 2. - TANGENCIAS.- Dados un par de puntos, A y B, y la recta R, se pide dibujar las circunferencias tangentes a la recta y que pasen por ambos puntos. Indica CLARAMENTE los puntos de tangencia y los centros de las circunferencias solución.



BLOQUE 1. EJERCICIO 3. - INVERSIÓN. Determina los puntos inversos de B y C, conocidos el centro de inversión, O, y un punto doble, $A=A'$.



DIBUJO TÉCNICO

Tiempo máximo de la prueba: 1h 30 min

INSTRUCCIONES PARA REALIZAR EL EXAMEN

El examen consta de **3 bloques de ejercicios**.

El **primer bloque** tiene una valoración de **6 puntos**. Consta de 6 ejercicios, de los cuales el estudiante ha de **elegir 3**, con un valor de **2 puntos cada uno** de ellos.

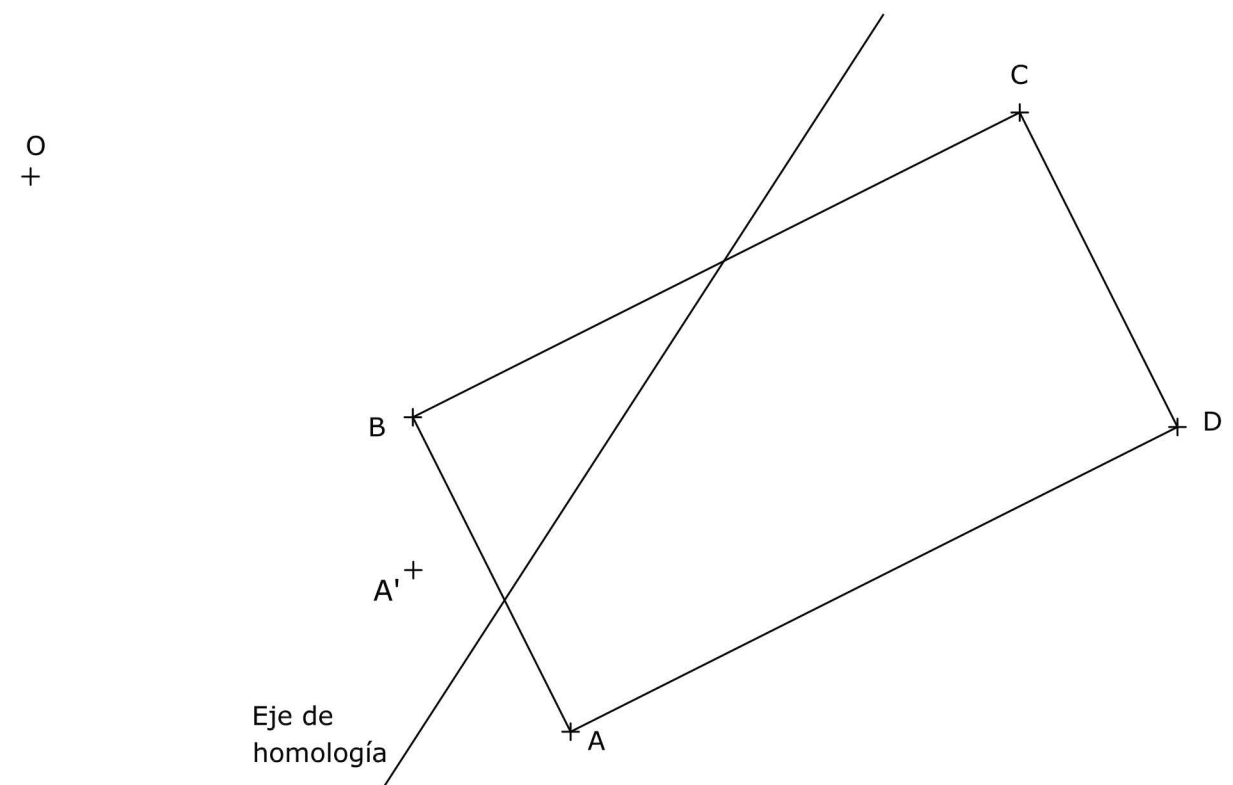
El **segundo bloque** tiene una valoración de **2 puntos**. Consta de 2 ejercicios, de los cuales el estudiante ha de **elegir 1**, con un valor de **2 puntos cada uno** de ellos.

El **tercer bloque** tiene una valoración de **2 puntos**. Consta de 2 ejercicios, de los cuales el estudiante ha de **elegir 1**, con un valor de **2 puntos cada uno** de ellos.

Es obligatorio realizar ejercicios de cada bloque para llegar a la puntuación máxima del examen (10).

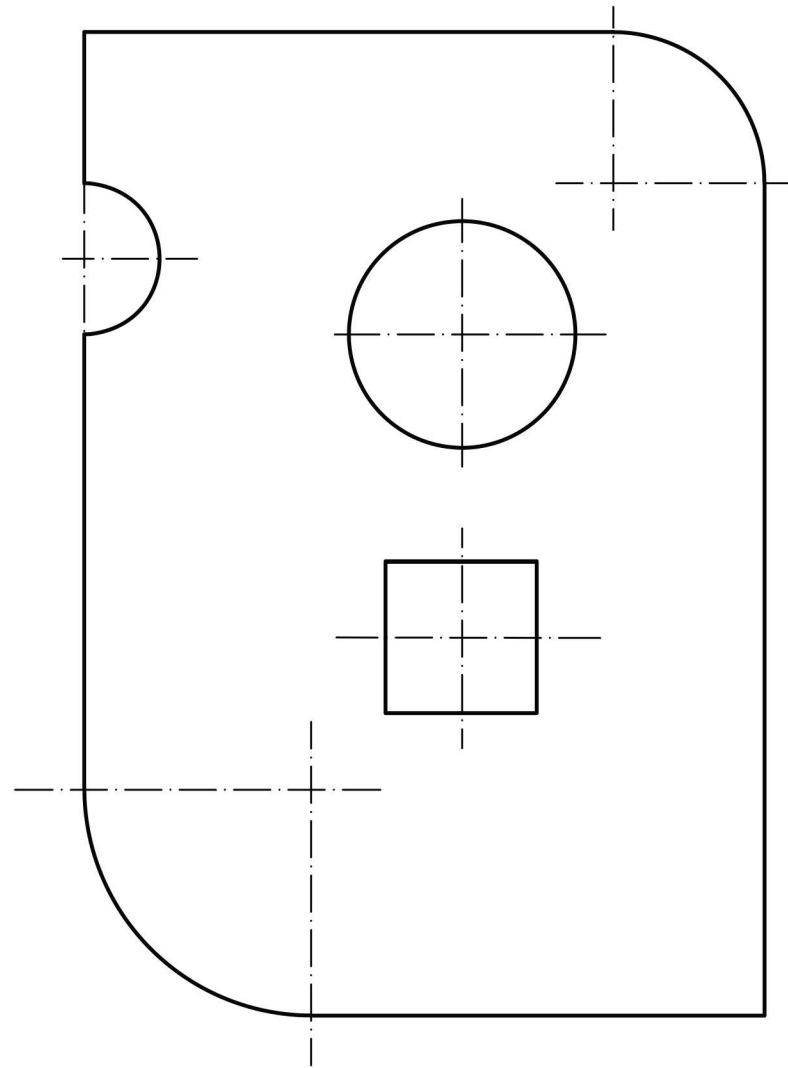
Observación importante: en ningún caso se corregirá un número mayor de ejercicios de los indicados para cada bloque. Para la corrección se seguirá el orden en el que los ejercicios aparezcan desarrollados por el estudiante. Solo si el estudiante ha tachado alguno de ellos, se entenderá que ese ejercicio no debe ser corregido. En ese caso se le corregirá aquel que ocupase el correspondiente y lógico lugar del tachado, siempre y cuando pertenezca a su misma agrupación y en el orden de respuesta.

BLOQUE 1. EJERCICIO 1. - HOMOLOGÍA. Dibuja la figura homóloga del rectángulo ABCD dado. Se conoce el eje y el centro de homología, punto O, además del homólogo del punto A, el punto A'.

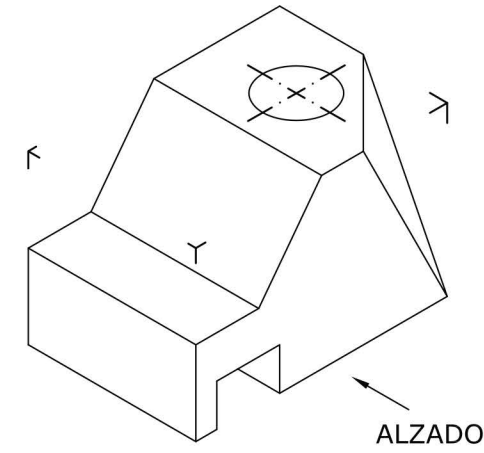


El examen se realizará a lápiz. Se podrá utilizar regla graduada, escuadra, cartabón, goma de borrar y compás. No está permitido el uso de plantillas y calculadora.

BLOQUE 1. EJERCICIO 6. - ACOTACIÓN. Acota la pieza de chapa según normas UNE.



BLOQUE 1. EJERCICIO 4. - VISTAS. Dibuja a mano alzada las vistas (alzado, planta y perfil) de la pieza representada.



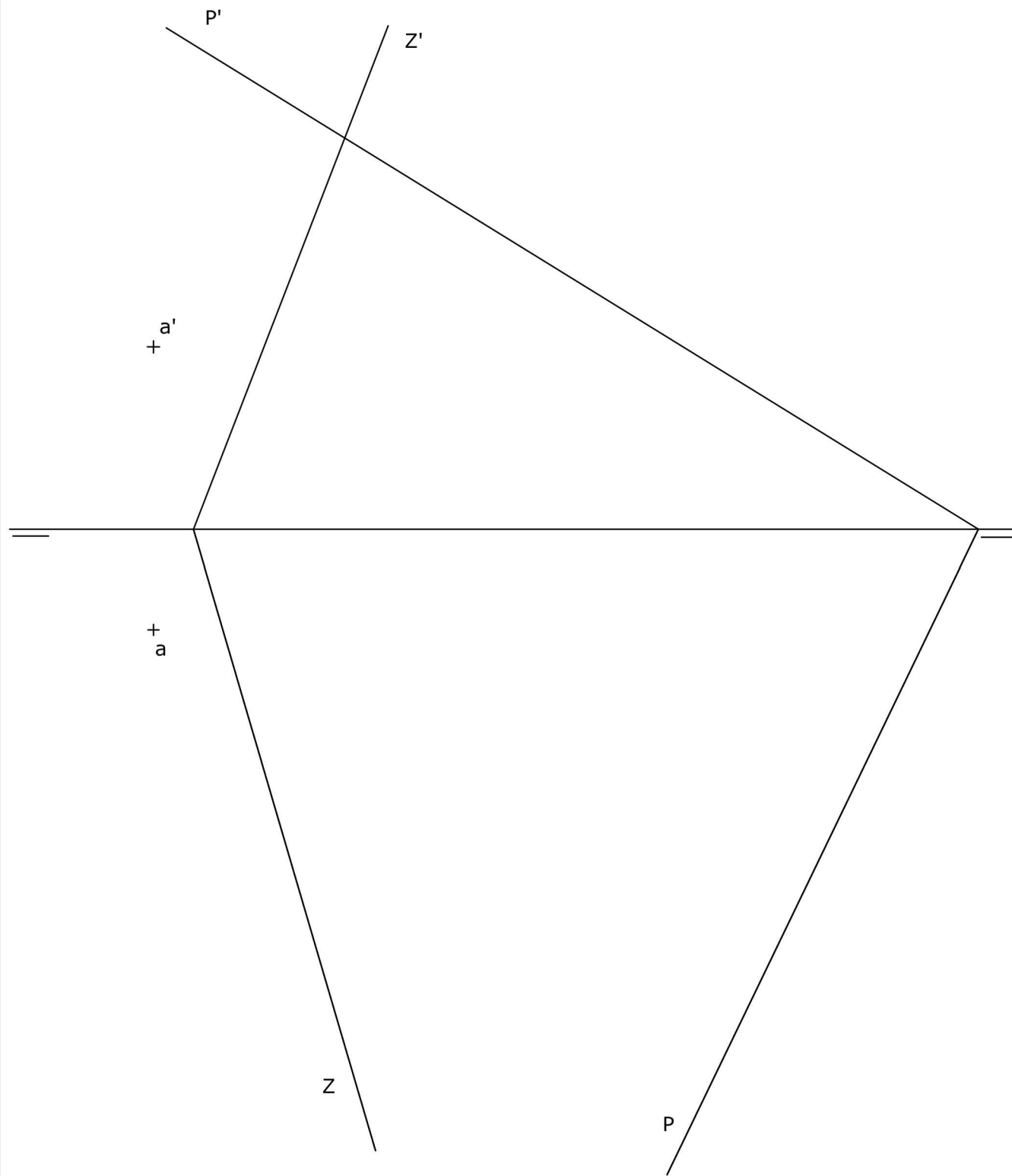
El examen se realizará a lápiz. Se podrá utilizar regla graduada, escuadra, cartabón, goma de borrar y compás. No está permitido el uso de plantillas y calculadora.

Puntuación máxima 2

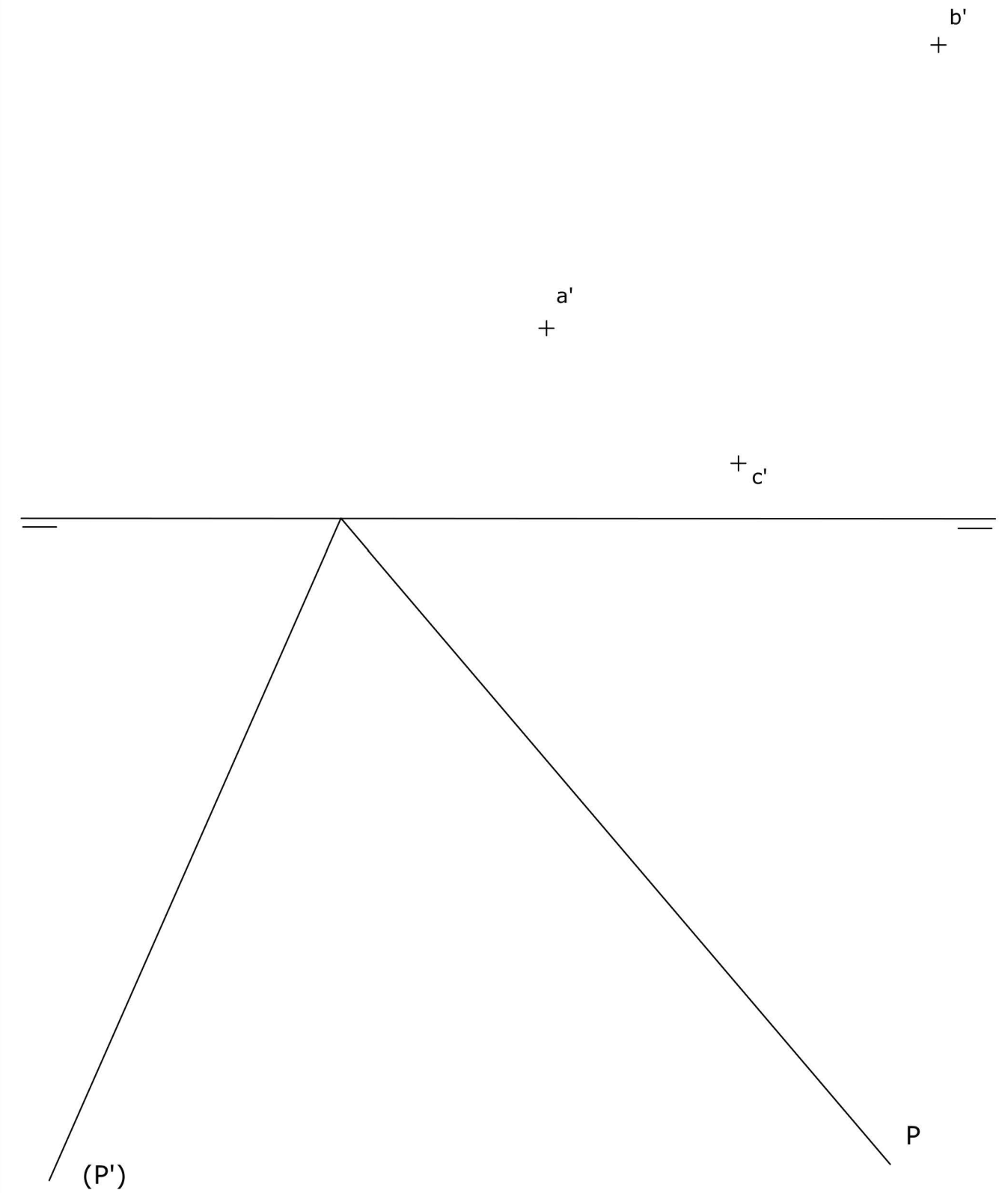
BLOQUE 1. EJERCICIO 5. - ELIPSE. Dibuja la elipse de la cual se conocen sus focos, F y F', y un punto de la curva, P. Emplea en el trazado, al menos, 8 puntos de la elipse.



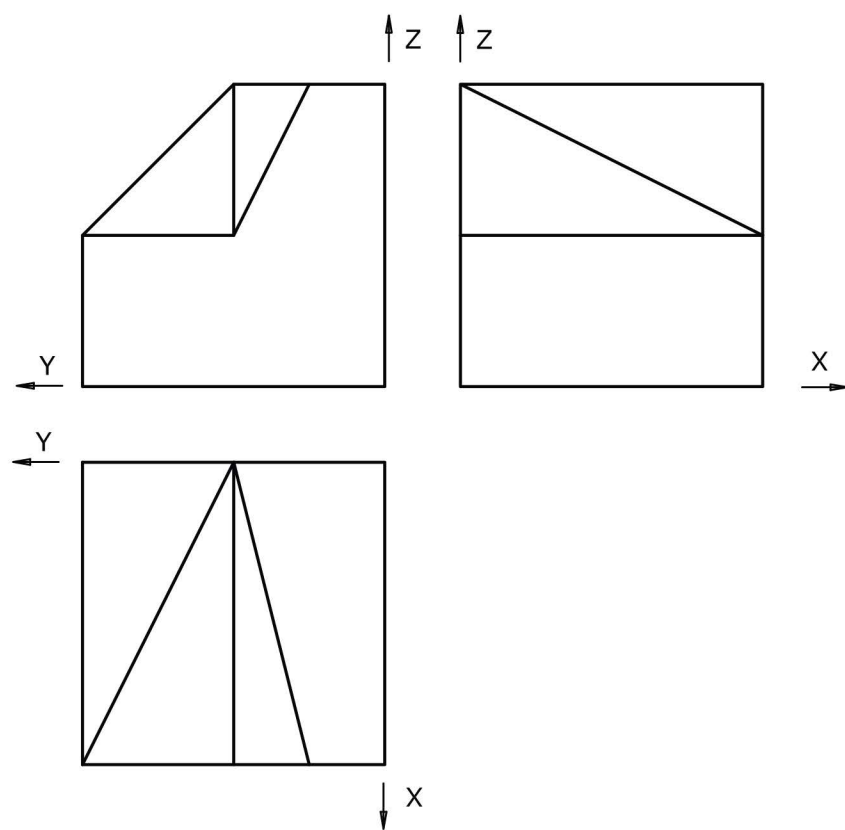
BLOQUE 2. EJERCICIO 2. - DIÉDRICO. Dibuja: a) La recta que contenga al punto A y sea paralela a la recta intersección de los planos Z y P. b) El plano que contenga al punto A y sea perpendicular a la recta intersección de los planos Z y P.



BLOQUE 2. EJERCICIO 1. - DIÉDRICO. De un triángulo se conoce la proyección vertical de sus vértices. Asimismo, se conocen la traza horizontal del plano que contiene a dicho triángulo y la traza vertical abatida sobre el plano horizontal de proyección. Se pide: dibujar las proyecciones diédricas del triángulo y la verdadera dimensión del mismo.



BLOQUE 3. EJERCICIO 2. - ISOMÉTRICO. Representa en PERSPECTIVA ISOMETRICA, a escala 3:2, la figura correspondiente a las proyecciones dadas. Calcula gráficamente y aplica en la representación los coeficientes de reducción.



BLOQUE 3. EJERCICIO 1. - ISOMÉTRICO. Representa en PERSPECTIVA ISOMETRICA, a escala 3:2, la figura correspondiente a las proyecciones. Calcula gráficamente y aplica en la representación los coeficientes de reducción.

